



CONCURSO PÚBLICO DA PREFEITURA MUNICIPAL DE MARABÁ

PROVA OBJETIVA - 17 de março de 2019

## NÍVEL FUNDAMENTAL COMPLETO

# AUXILIAR DE SERVIÇOS GERAIS – IPASEMAR

Nome do Candidato: \_\_\_\_\_

Nº de Inscrição: \_\_\_\_\_

Assinatura

### INSTRUÇÕES AO CANDIDATO

1. Confira se o Boletim de Questões que você recebeu corresponde ao cargo/nível de escolaridade ao qual você está inscrito, conforme consta no seu cartão de inscrição e no cartão resposta. Caso contrário, comunique imediatamente ao fiscal de sala.
2. Confira se, além deste BOLETIM DE QUESTÕES, você recebeu o CARTÃO RESPOSTA, destinado à marcação das respostas às questões objetivas.
3. Este BOLETIM DE QUESTÕES contém a **Prova Objetiva com 50 (cinquenta) questões** - 20 de Português, 05 de Legislação Municipal, 15 de Matemática e Raciocínio Lógico e 10 de Atualidades. Caso exista alguma falha de impressão, comunique imediatamente ao fiscal de sala. Na prova há espaço reservado para rascunho. **Esta prova terá duração de 04 (quatro) horas, tendo seu início às 8h e término às 12h (horário local).**
4. Para cada questão objetiva, são apresentadas 04 (quatro) opções de resposta, identificadas com as letras (A), (B), (C), (D). Apenas uma responde corretamente à questão, considerando a numeração de 01 a 50.
5. Confira se seu nome, número de inscrição, cargo e data de nascimento, constam na parte superior do CARTÃO RESPOSTA que você recebeu. Caso exista algum erro de impressão, comunique imediatamente ao fiscal de sala, a fim de que este registre a correção na Ata de Sala.
6. É obrigatório que o candidato assine a LISTA DE PRESENÇA e o CARTÃO RESPOSTA, do mesmo modo como está assinado no seu documento de identificação.
7. A marcação do CARTÃO RESPOSTA deve ser feita somente com caneta esferográfica de tinta preta ou azul, pois lápis não será considerado.
8. A maneira correta de marcar as respostas no CARTÃO RESPOSTA é cobrir totalmente o espaço correspondente à letra a ser assinalada, conforme o exemplo que consta no CARTÃO RESPOSTA.
9. Em hipótese alguma haverá substituição do CARTÃO RESPOSTA por erro do candidato. A substituição só será autorizada se for constatada falha de impressão.
10. O CARTÃO RESPOSTA é o único documento válido para o processamento de suas respostas.
11. Não será permitida, durante a realização da sua prova, comunicação entre os candidatos, nem utilização de máquinas calculadoras ou similares, de livros, de notas, de impressos ou consulta a qualquer material. Assim como, de aparelhos eletrônicos (*bip*, telefone celular, relógio do tipo *datbank*, agenda eletrônica, etc.) e acessórios de chapelaria. O candidato receberá do fiscal de sala saco plástico para guarda do material, que deverão, obrigatoriamente, ser colocados embaixo de sua carteira, junto com os acessórios de chapelaria – itens 7.16 e 7.17 do edital de abertura do concurso. O descumprimento dos itens anteriormente citados e outros definidos no Edital nº 001/2018-PMC, implicará a eliminação do candidato, constituindo tentativa de fraude.
12. O candidato somente poderá retirar-se da sala de provas levando o caderno de provas no decurso dos últimos 60(sessenta) minutos anteriores ao horário determinado para o término das provas.

Boa Prova!!!



**CONCURSO PÚBLICO DA PREFEITURA MUNICIPAL DE MARABÁ**

FADESP

**CONHECIMENTOS BÁSICOS**  
**LÍNGUA PORTUGUESA**

Leia atentamente o texto 1 para responder às questões de 1 a 9.

**TEXTO 1**

**O que é biografia**

01 **Biografia** é a história escrita da vida de uma determinada pessoa. A  
02 palavra tem origem etimológica nos termos gregos *bios*, que significa "vida",  
03 e *graphein*, que significa "escrever".

04 Biografia é a descrição dos fatos particulares da vida de uma  
05 pessoa, podendo conter fotos que testemunham os acontecimentos. É um  
06 documento em que consta a trajetória de vida de uma pessoa, com dados  
07 precisos, incluindo nomes, locais e datas dos principais acontecimentos.

08 Como gênero literário, a biografia é uma narração da história de vida de  
09 uma pessoa ou de uma personagem, geralmente na terceira pessoa. Já a  
10 autobiografia é quando o autor expõe a sua própria história na primeira pessoa.

11 A estrutura básica de uma biografia geralmente inclui uma apresentação  
12 inicial do protagonista (introdução), a descrição dos principais fatos que compõem  
13 a história (desenvolvimento) e uma parte final de caráter subjetivo (conclusão).

14 Em geral, são feitas biografias de figuras públicas e reconhecidas  
15 mundialmente, como políticos, escritores, cientistas, esportistas, artistas, ou de  
16 pessoas que deram uma contribuição importante para o mundo.

17 Muitas vezes as biografias, especialmente de celebridades, podem causar  
18 polêmicas por divulgarem fatos desconhecidos inclusive da própria família.

<https://www.significados.com.br/biografia/>  
Acessado em 16/11/2018  
Texto adaptado

1 Uma expressão do texto 1 que **NÃO** corresponde à definição de **biografia** é

- (A) história escrita.
- (B) origem etimológica.
- (C) descrição dos fatos.
- (D) trajetória de vida.

2 Em *Biografia é a descrição dos fatos particulares da vida de uma pessoa, podendo conter fotos que testemunham os acontecimentos.* (linhas 4 e 5), o autor do texto 1 quer dizer que as fotografias podem

- (A) presenciar os acontecimentos.
- (B) participar dos acontecimentos.
- (C) atestar os acontecimentos.
- (D) observar os acontecimentos.

3 No texto **O que é biografia**, as aspas (linhas 2 e 3) foram empregadas para indicar

- (A) ironia.
- (B) citações.
- (C) traduções.
- (D) destaques.

4 De acordo com o texto,

- (A) o autor da biografia não é o biografado.
- (B) o biografado é quem narra os fatos em terceira pessoa.
- (C) o narrador em terceira pessoa é o biografado.
- (D) o autor da autobiografia narra em terceira pessoa.

5 No texto, um termo que **NÃO** é empregado para fazer referência ao **biografado** é

- (A) pessoa.
- (B) personagem.
- (C) protagonista.
- (D) caráter.

6 Também de acordo com o texto 1, a biografia é caracterizada por

- (A) informações precisas.
- (B) reconhecimento mundial.
- (C) caráter subjetivo.
- (D) fatos desconhecidos.

7 A biografia é um texto

- (A) descritivo.
- (B) narrativo.
- (C) injuntivo.
- (D) argumentativo.

8 São acentuadas pelo mesmo motivo as palavras

- (A) *etimológica* e *caráter*.
- (B) *básica* e *caráter*.
- (C) *própria* e *literário*.
- (D) *trajetória* e *gênero*.

9 É exemplo de derivação prefixal a palavra

- (A) *geralmente*.
- (B) *compõem*.
- (C) *desenvolvimento*.
- (D) *inclusive*.

**RASCUNHO**

Leia atentamente o texto 2 para responder às questões de 10 a 20.

## TEXTO 2

### Cora Coralina

por Daniela Diana

01 Cora Coralina foi uma poetisa e contista brasileira contemporânea.  
02 Escritora das coisas simples, ela é considerada uma das mais importantes do  
03 país.

04 Ana Lins dos Guimarães Peixoto Bretas nasceu na Cidade de Goiás, dia  
05 20 de agosto de 1889.

06 Era filha de Francisco de Paula Lins dos Guimarães Peixoto e de Jacyntha  
07 Luiza do Couto Brandão. Com apenas um mês de vida seu pai veio a falecer.

08 Fez o primário na Escola da Mestre Silvina. Em 1900, mudou-se com sua  
09 família para a cidade de Mossâmedes. Foi na adolescência que Ana começou a  
10 escrever e a participar de ciclos literários.

11 No entanto, sua primeira obra "*Poemas dos Becos de Goiás e Estórias*  
12 *Mais*" foi publicada quando ela tinha 76 anos. Durante a maior parte de sua vida  
13 foi doceira.

14 Com dezenove anos, criou o jornal de poemas femininos "*A Rosa*", ao lado  
15 de suas amigas: Leodegária de Jesus, Rosa Godinho e Alice Santana. A partir  
16 daí, começa a escrever contos e crônicas com o pseudônimo Cora Coralina.

17 No mesmo ano, 1907, ela assume a vice-presidência do gabinete literário  
18 goiano. Em 1910, Cora publicou o conto "*Tragédia na Roça*".

19 Nesse mesmo ano, conheceu o advogado Cantídio Tolentino de  
20 Figueiredo Bretas e passam a viver no Estado de São Paulo. Casaram-se em  
21 1925 e com ele teve seis filhos, sendo que dois deles morreram. Em 1932, Cora  
22 participa da Revolução Constitucionalista em São Paulo.

23 Em 1934, falece seu marido no interior de São Paulo, na cidade de  
24 Palmital. Na capital paulista conhece o editor José Olympio e passa a vender  
25 livros.

26 Em 1936, Coralina passa a viver no interior, na cidade de Penápolis. Mais  
27 tarde, mudou-se para Andradina, também no interior, e ali abre uma loja de  
28 tecidos.

29 Em Andradina, Cora começa a escrever para o jornal da cidade e ainda,  
30 se candidata a vereadora em 1951. Cinco anos depois, decide voltar a sua cidade  
31 natal.

32 Em 1970, ela toma posse da cadeira número 5 da Academia Feminina de  
33 Letras e Artes de Goiás. E, em 1981 recebe o Troféu Jaburu através do Conselho  
34 Estadual de Cultura de Goiás.

35 No ano seguinte, recebe o Prêmio de Poesia em São Paulo. Pela  
36 Universidade de Goiás, Cora Coralina foi agraciada com o título de Doutora  
37 Honoris Causa.

38 Em 1984 recebe o Troféu Juca Pato, sendo a primeira escritora do país a  
39 recebê-lo. Nesse mesmo ano, ingressa na Academia Goiana de Letras, ocupando  
40 a cadeira número 38.

41 Faleceu em Goiânia, em 10 de abril de 1985, com 95 anos, vítima de  
42 pneumonia.

43  
44 Você Sabia?

45 Após sua morte, a casa onde viveu os últimos anos de vida foi  
46 transformada no Museu Cora Coralina. Em 2001, a moradia na cidade de Goiás  
47 foi reconhecida pela Unesco como Patrimônio Histórico da Humanidade.

- 10** De acordo com o texto 2, **Cora Coralina** escrevia
- (A) crônicas e contos.
  - (B) poesias, crônicas e novelas.
  - (C) romances e contos.
  - (D) poemas, crônicas e contos.
- 11** O nome verdadeiro de Cora Coralina era
- (A) Ana Bretas.
  - (B) Jacyntha Brandão.
  - (C) Leodegária de Jesus.
  - (D) Rosa Godinho.
- 12** Para tornar-se mais claro, o enunciado *Com apenas um mês de vida seu pai veio a falecer* (linha 7) poderia ser escrito da seguinte maneira:
- (A) *Seu pai veio a falecer com apenas um mês de vida.*
  - (B) *Seu pai veio a falecer quando tinha apenas um mês de vida.*
  - (C) *Seu pai veio a falecer um mês antes de seu nascimento.*
  - (D) *Seu pai veio a falecer um mês após seu nascimento.*
- 13** De acordo com o texto 2, Cora Coralina
- (A) casou-se duas vezes.
  - (B) fabricava doces.
  - (C) era jornalista.
  - (D) seguiu a carreira militar.
- 14** Cora Coralina começou a publicar seus poemas
- (A) aos 76 anos.
  - (B) em 1934.
  - (C) com dezenove anos.
  - (D) após a morte de Cantídio Bretas.
- 15** A divisão silábica está corretamente indicada em
- (A) *con-tem-po-râ-ne-a.*
  - (B) *p-seu-dô-ni-mo.*
  - (C) *tro-fê-u.*
  - (D) *ad-vo-ga-do.*
- 16** A palavra grifada **NÃO** se refere ao elemento indicado em
- (A) *No mesmo ano, 1907, ela assume a vice-presidência do gabinete literário goiano.* (linhas 17 e 18) – Cora Coralina.
  - (B) *Casaram-se em 1925 e com ele teve seis filhos, sendo que dois deles morreram.* (linhas 20 e 21) – Cantídio Bretas.
  - (C) *Em 1936, Coralina passa a viver no interior, na cidade de Penápolis. Mais tarde, mudou-se para Andradina, também no interior, e ali abre uma loja de tecidos.* (linhas 26 a 28) – Penápolis.
  - (D) *Em 1984 recebe o Troféu Juca Pato, sendo a primeira escritora do país a recebê-lo.* (linhas 38 e 39) – Troféu Juca Pato.
- 17** Um mesmo fonema é representado por letras diferentes nas palavras
- (A) *dezenove* e *casa*.
  - (B) *Cora* e *vereadora*.
  - (C) *recebe* e *Jaburu*.
  - (D) *através* e *nesse*.

**CONCURSO PÚBLICO DA PREFEITURA MUNICIPAL DE MARABÁ**

- 18** A classe à qual pertence a palavra grifada está corretamente indicada em
- (A) *Fez o primário na Escola da Mestre Silvina.* (linha 8) – preposição.
  - (B) *Em 1934, falece seu marido no interior de São Paulo, na cidade de Palmital.* (linhas 23 e 24) – pronome.
  - (C) *Cinco anos depois, decide voltar a sua cidade natal.* (linhas 30 e 31) – artigo.
  - (D) *Nesse mesmo ano, ingressa na Academia Goiana de Letras, ocupando a cadeira número 38.* (linhas 39 e 40) – substantivo.
- 19** Do trecho *Pela Universidade de Goiás, Cora Coralina foi agraciada com o título de Doutora Honoris Causa.* (linhas 35 a 37) entende-se que Cora Carolina recebeu
- (A) um presente.
  - (B) uma graça.
  - (C) um diploma.
  - (D) um prêmio.
- 20** Em *Após sua morte, a casa onde viveu os últimos anos de vida foi transformada no Museu Cora Coralina. Em 2001, a moradia na cidade de Goiás foi reconhecida pela Unesco como Patrimônio Histórico da Humanidade.* (linhas 45 a 47), são sinônimas as palavras
- (A) *após* e *onde*.
  - (B) *casa* e *moradia*.
  - (C) *transformada* e *reconhecida*.
  - (D) *morte* e *vida*.

**LEGISLAÇÃO MUNICIPAL**

- 21** A Lei n. 17.331/2008, chamada de regime jurídico dos servidores públicos civis do município de Marabá, se aplica a(aos)
- (A) todas as pessoas jurídicas de direito privado de Marabá, apenas.
  - (B) todas as pessoas físicas de Marabá, apenas.
  - (C) servidores públicos civis da administração pública direta do município de Marabá, apenas.
  - (D) servidores públicos civis da administração pública direta e indireta do município de Marabá.
- 22** De acordo com a Lei n. 17.331/2008, chamada de regime jurídico dos servidores públicos civis da administração pública direta e indireta do município de Marabá, os cargos públicos, segundo a natureza, podem ser de
- (A) provimento efetivo, de provimento em comissão e de provimento de emprego público.
  - (B) vacância, de remoção, de promoção e de concurso público.
  - (C) provimento efetivo, de provimento em condução e de provimento de mérito.
  - (D) direção, de assessoramento, de coordenação e chefia, de técnicas e de apoio.
- 23** De acordo com a Lei n. 17.331/2008, chamada de regime jurídico dos servidores públicos civis da administração pública direta e indireta do município de Marabá, as funções públicas, de acordo com sua natureza, podem ser de
- (A) provimento efetivo, de provimento em comissão e de provimento de emprego público.
  - (B) direção, de assessoramento, de coordenação e chefia, de técnicas e de apoio.
  - (C) direção, de assessoramento, de coordenação e chefia, de técnicas e de inteligência.
  - (D) vacância, de remoção, de promoção e de concurso público.
- 24** De acordo com a Lei n. 17.331/2008, não é considerado um requisito básico para a investidura em cargo público o(a)
- (A) gozo dos direitos políticos.
  - (B) idade mínima de dezoito anos.
  - (C) aptidão física e mental.
  - (D) naturalidade do estado do Pará.

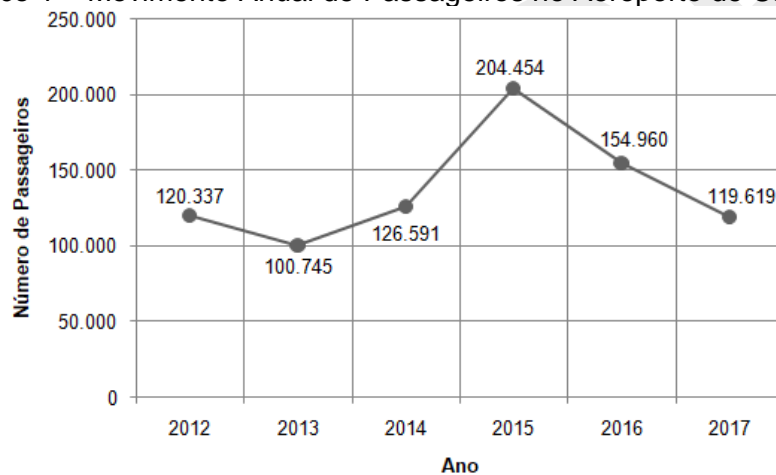
**25** De acordo com a Lei n. 17.331/2008, é requisito de desempate em concurso público para provimento de cargos no município de Marabá, quando os candidatos empatados não pertencerem ao serviço público do município de Marabá,

- (A) maior idade civil.
- (B) residência na cidade de Marabá.
- (C) fluência em idioma diverso do português.
- (D) maior pontuação nas questões sobre a Lei n. 17.331/2008.

### **MATEMÁTICA E RACIOCÍNIO LÓGICO**

**26** O gráfico 1 apresenta a movimentação de passageiros que embarcaram ou desembarcaram no Aeroporto de Carajás, no período de 2012 a 2017, segundo dados do Anuário Estatístico Operacional 2017, divulgado pela Infraero.

Gráfico 1 – Movimento Anual de Passageiros no Aeroporto de Carajás



Fonte: Infraero, disponível em: [http://www4.infraero.gov.br/media/674694/anuario\\_2017.pdf](http://www4.infraero.gov.br/media/674694/anuario_2017.pdf)

Analisando o gráfico 1, podemos inferir que

- (A) a movimentação de passageiros no aeroporto, em 2015, foi maior que o dobro da movimentação de passageiros em 2013.
- (B) a segunda menor movimentação de passageiros no aeroporto ocorreu no ano de 2012.
- (C) a movimentação de passageiros no aeroporto apenas cresceu no período de 2012 a 2015.
- (D) no período de 2014 a 2017, não houve registro de redução na movimentação de passageiros no aeroporto.

**27** Num grande supermercado da cidade de Marabá, são vendidos pães de fermentação natural, cuja produção diária é de 576 unidades. Se  $\frac{5}{8}$  dos pães foram produzidos de manhã, o número de pães que deverão ser produzidos à tarde para atingir a produção diária é igual a

- (A) 115.
- (B) 200.
- (C) 216.
- (D) 360.

**28** O *Bellini* é um clássico coquetel italiano, feito apenas com suco concentrado de pêssego e espumante *prosecco*, na razão de 2:3. Para produzir 450ml deste coquetel serão necessários

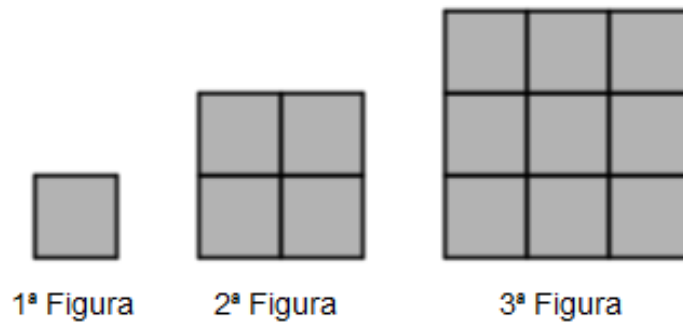
- (A) 90ml de espumante *prosecco*.
- (B) 180ml de suco concentrado de pêssego.
- (C) 270ml de suco concentrado de pêssego.
- (D) 360ml de espumante *prosecco*.



**29** Por motivos de segurança, a proprietária de uma casa instalará uma cerca de arame farpado no alto de todo o muro que delimita o terreno da propriedade. Sabe-se que as dimensões do terreno são 40m por 20m e que a cerca deverá ter cinco voltas de arame fardo, então o preço a pagar pelo arame farpado, considerando que um rolo com 100m custa R\$ 89,00 é

- (A) R\$ 178,00.
- (B) R\$ 267,00.
- (C) R\$ 356,00.
- (D) R\$ 534,00.

**30** Os quadrados na sequência de figuras abaixo são todos iguais e foram organizados a partir de uma sequência lógico-matemático.



O número de quadrados necessários para formar a 15ª figura é igual a

- (A) 250.
- (B) 225.
- (C) 125.
- (D) 110.

**31** No encanamento de uma casa há uma falha, fazendo com que 0,96 litros de água sejam desperdiçados a cada meia hora. Se esta falha não for corrigida, o desperdício de água em dois dias será de

- (A) 35,28 litros.
- (B) 46,08 litros.
- (C) 69,12 litros.
- (D) 92,16 litros.

**32** Os churros que são vendidos num quiosque no shopping podem ser recheados com doce de leite ou chocolate, acrescido de um tipo de confeito dentre os três disponíveis: colorido, chocolate ao leite ou chocolate branco. O número de maneiras diferentes de escolher um churro com um recheio e um confeito é

- (A) 8.
- (B) 6.
- (C) 4.
- (D) 2.

**RASCUNHO**

**33** Um instituto realizou uma pesquisa no Estado do Pará sobre a preferência dos eleitores em relação aos candidatos à presidência da República, X e Y. A pesquisa foi realizada com 742 eleitores em 42 municípios e o resultado total, por sexo, por religião e por raça/cor, estão apresentados no quadro 1.

Quadro 1 – Resultado da Pesquisa Eleitoral para Presidente da República no Estado do Pará.

	TOTAL	SEXO		RELIGIÃO			RAÇA/COR		
		Masculino	Feminino	Católica	Evangélica	Outras	Branca	Preta/Parda	Outras
<b>Número de Entrevistados</b>	742	364	378	417	249	76	110	597	35
<b>Candidato X</b>	53%	48%	57%	59%	42%	57%	45%	56%	31%
<b>Candidato Y</b>	47%	52%	43%	41%	58%	43%	55%	44%	69%

Fonte: Ibope (adaptado)

Analisando o Quadro 1, pode-se concluir que

- (A) evangélicos, pretos/pardos e homens votariam majoritariamente no candidato Y.
- (B) o candidato X teria a sua melhor votação entre os eleitores católicos, que representam a minoria dos entrevistados.
- (C) a maioria dos entrevistados declarou-se preto/pardo e, destes, mais de 300 disseram que votariam no candidato X.
- (D) o candidato Y teria a sua pior votação entre os entrevistados católicos, o que representaria mais de 246 entrevistados.

**34** Uma empilhadeira consegue transportar 120 caixas de refrigerante ou 150 caixas de azeite. Se 60 caixas de refrigerante já foram colocadas na empilhadeira, a quantidade máxima de caixas de azeite que podem ser colocadas na empilhadeira é

- (A) 75.
- (B) 60.
- (C) 50.
- (D) 45.

**35** Para calcular a quantidade de carne para um churrasco caseiro, considera-se que cada adulto consome, em média, 400 gramas de carnes (linguiça, frango, carne vermelha, etc.) e que o consumo de cada criança, seja equivalente a metade desta quantidade. A quantidade mínima de carnes que deverá adquirida para um churrasco caseiro em que 5 adultos e 7 crianças participarão é igual a

(Considere que 1 kg = 1000 gramas)

- (A) 1,7 kg.
- (B) 2,4 kg.
- (C) 3,4 kg.
- (D) 4,8 kg.

RASCUNHO

36 A figura 1 (disponível em <https://www.instagram.com/marcelomarins.art/>) apresenta uma obra de arte abstrata do artista Marcelo Marins, enquanto que a figura 2 apresenta uma reprodução não exata da obra, feita num aplicativo.




Figura 1



Figura 2

Sobre a reprodução da obra, temos as seguintes informações:

- I. o quadrilátero ABCD é um quadrado de lado 60cm;
- II. os pontos  $E$ ,  $F$  e  $I$  dividem ao meio os segmentos  $\overline{DC}$ ,  $\overline{AB}$  e  $\overline{GH}$ , respectivamente;
- III. os segmentos  $\overline{GI}$  e  $\overline{TH}$  são iguais e medem cada um, a quarta parte do segmento  $\overline{AB}$ .

Com base nestas informações, a área formada pelas quatro figuras pintadas de preto é igual a

- (A) 450 cm<sup>2</sup>.
- (B) 900 cm<sup>2</sup>.
- (C) 1350 cm<sup>2</sup>.
- (D) 2.250 cm<sup>2</sup>.

37 A *Black Friday* ocorre na última sexta-feira do mês de novembro e marca o início do período de compras natalino. Neste dia, os lojistas aplicam descontos em seus produtos para atrair os clientes. Um casal de noivos deverá adquirir para sua casa nova, um fogão de 6 bocas que custa R\$ 1.250,00. Contudo, na *Black Friday*, este fogão recebeu 25% de desconto. O valor do desconto deste produto é igual a

- (A) R\$ 312,50.
- (B) R\$ 310,25.
- (C) R\$ 308,75.
- (D) R\$ 305,10.

38 Uma peça de teatro será apresentada no Carajás Centro de Convenções e, para este evento, foram disponibilizados 5.000 ingressos ao valor de R\$ 60,00. Entretanto, por lei federal, idosos, estudantes, pessoas com deficiência e jovens de baixa renda, com idade entre 15 e 29 anos, têm direito à meia-entrada, ou seja, pagam o ingresso com 50% de desconto. Sabe-se que todos os ingressos para o evento foram vendidos, sendo alguns como meia-entrada e outros como inteira, arrecadando ao todo R\$ 240.000,00. O número de ingressos vendidos como meia-entrada é igual a

- (A) 3.000.
- (B) 2.500.
- (C) 2.000.
- (D) 1.500.

**39** Uma família reuniu-se em uma churrascaria para comemorar o aniversário de dezoito anos dos trigêmeos Vinícius, Laura e Beatriz. O valor total do consumo no restaurante foi de R\$ 1.026,00, que seria dividido igualmente por todos os presentes. Como os aniversariantes foram excluídos da conta, cada um dos demais membros da família pagou R\$ 57,00 a mais do que pagaria. O número total de pessoas nesta comemoração é igual a

- (A) 15.
- (B) 12.
- (C) 9.
- (D) 6.

**40** Felipe e Jessica possuem juntos 570 selos. O número de selos que Jessica possui excede em 10 unidades o triplo de selos que Felipe possui. O número de selos que Felipe possui é igual a

- (A) 140.
- (B) 250.
- (C) 320.
- (D) 430.

### **ATUALIDADES**

**41** Ocorreram, no ano de 2018, eleições para diferentes cargos públicos no Brasil. Em conformidade com os resultados dessas eleições, serão, respectivamente, presidente da república, governador do estado do Pará e prefeito municipal de Marabá, a partir de 2019.

- (A) Fernando Haddad, Simão Jatene e Tião Miranda.
- (B) Jair Bolsonaro, Helder Barbalho e Tião Miranda.
- (C) General Mourão, Helder Barbalho e Tony Cunha.
- (D) Jair Bolsonaro, Éder Mauro e Tony Cunha.

**42** No ano de 2016 foi aprovada no Congresso Nacional a Emenda Constitucional nº 95, que instituiu um novo regime fiscal brasileiro. Conhecida como a lei do teto dos gastos públicos, entre as principais medidas dessa lei está

- (A) a limitação do aumento de despesas acima da inflação apenas para as despesas governamentais com educação, saúde e segurança pública.
- (B) a instituição da reforma da previdência, limitando os gastos públicos com a aposentadoria de servidores públicos.
- (C) a alteração da regulamentação de férias, jornada de trabalho, remuneração e plano de carreira de servidores públicos, limitando os gastos públicos com a folha salarial.
- (D) a limitação do crescimento das despesas do governo, por 20 anos, ao mesmo valor do que foi gasto no ano anterior, corrigido pela inflação.

**43** Os tributos têm a função de gerar arrecadação para o poder público e se constituem em uma das principais fontes de receitas municipais. São tributos municipais o

- (A) ICMS – Imposto sobre Circulação de Mercadorias, o IPVA – Imposto sobre a Propriedade de Veículos Automotores e o ITCMD – Imposto sobre Transmissão “Causa Mortis” e Doação.
- (B) IRPF – Imposto de Renda de Pessoa Física, o ITR – Imposto sobre a Propriedade Territorial Rural e o Cide - Contribuição de Intervenção no Domínio Econômico.
- (C) IPTU – Imposto Predial e Territorial Urbano, o ISS – Imposto Sobre Serviços e o ITBI – Imposto de Transmissão de Bens Imóveis.
- (D) ICMS – Imposto sobre Circulação de Mercadorias, o IRPF – Imposto de Renda de Pessoa Física e o IPTU – Imposto Predial e Territorial Urbano.

**44** A organização do Estado brasileiro tem como um de seus fundamentos, definidos pela Constituição da República Federativa do Brasil, a promoção do bem de todos, sem preconceitos de origem, raça, sexo, cor, idade e quaisquer outras formas de discriminação. Em conformidade com essa legislação, a homofobia fere um princípio constitucional brasileiro. A homofobia consiste em

- (A) ódio ou aversão às mulheres.
- (B) rejeição ou aversão a homossexuais, bissexuais, transgêneros e pessoas intersexuais.
- (C) medo de homens.
- (D) preconceito generalizado aos indivíduos pobres.

**45** A Lei de Diretrizes e Bases da Educação (Lei nº 9.394, de 20 de dezembro de 1996) é a lei que define como se estrutura a educação nacional. Segundo essa lei, a educação nacional deve ser ofertada com bases em alguns princípios. Em conformidade com essa lei, **NAO** se constitui em um princípio da educação nacional a(o)

- (A) liberdade de aprender, ensinar, pesquisar e divulgar o pensamento, a arte e o saber.
- (B) pluralismo de ideias e de concepções pedagógicas e coexistência de instituições públicas e privadas de ensino.
- (C) neutralidade política, ideológica e religiosa do Estado.
- (D) respeito à liberdade e o apreço à tolerância.

**46** Conforme a Constituição Federal do Brasil, “A segurança pública, dever do Estado, direito e responsabilidade de todos, é exercida para a preservação da ordem pública e da incolumidade das pessoas e do patrimônio”. A Constituição também define que os municípios poderão constituir guardas municipais. Conforme essa lei, a(as) função(ões) das guardas municipais são(é)

- (A) prevenir e reprimir o tráfico ilícito de entorpecentes e drogas afins.
- (B) atuar como polícia judiciária e apurar infrações penais, exceto as militares.
- (C) atuar como polícia ostensiva e preservar a ordem pública.
- (D) proteger os bens, os serviços e as instalações municipais.

**47** Redes sociais são espaços virtuais onde grupos de pessoas ou empresas se relacionam através do envio de mensagens, da partilha de conteúdos, entre outros. São exemplos de redes sociais o *LinkedIn*, o *Facebook*, o *Orkut*, o *Flickr*, o *Youtube*, o *Whatsapp*, o *Instagram* e o *Twitter*. Dessas redes, a que objetiva, particularmente, promover a interação e a expansão de contatos profissionais é o

- (A) *LinkedIn*.
- (B) *Facebook*.
- (C) *Youtube*.
- (D) *Instagram*.

**48** Segundo o Portal Energia (<https://www.portal-energia.com/fontes-de-energia/>), acesso em 27/11/2018, as fontes de energia renovável são “aquelas em que a sua utilização e uso é renovável e pode-se manter e ser aproveitado ao longo do tempo sem possibilidade de esgotamento dessa mesma fonte”. Um dos tipos de energia renovável é a energia de biomassa. O que caracteriza a energia de biomassa é o(a)

- (A) uso de matéria de origem vegetal para produzir energia (bagaço de cana-de-açúcar, álcool, madeira, palha de arroz, óleos vegetais etc).
- (B) uso de raios solares para gerar energia, que oferece vantagens, como não ser poluente, ser renovável e existir em abundância. A desvantagem é que ainda não são viáveis, economicamente, os custos para a sua obtenção, desvantagem que supera os benefícios de sua utilização.
- (C) energia gerada através da força do vento captado por aerogeradores. Suas vantagens são a abundância na natureza, intensidade, regularidade e produção de energias a preços relativamente competitivos.
- (D) fonte de energia que depende de processos em escala de tempo geológica ou de formação do sistema solar para se tornarem disponíveis, por exemplo o carvão mineral, o petróleo, o gás natural e a energia nuclear.

**49** A União Europeia é uma união econômica e política de 28 Estados-membros independentes, situados principalmente na Europa. A principal moeda corrente do mercado comum europeu o(a)

- (A) dólar europeu.
- (B) libra esterlina.
- (C) franco suíço.
- (D) euro.

**50** O que fazer com o lixo produzido diariamente em todo o mundo, principalmente nas grandes cidades, tornou-se um grande problema mundial. São vários os tipos de lixos produzidos: lixo industrial, lixo nuclear, lixo verde, lixo orgânico, lixo reciclável, entre outros. A melhor definição para lixo reciclável é

- (A) aquele descartado por hospitais, clínicas de saúde, laboratórios, farmácias, consultórios odontológicos e veterinários. Eles são altamente nocivos aos seres humano por estarem contaminados com vírus, fungos e bactérias e, por isso, são incinerados.
- (B) todo lixo material que pode ser utilizado no processo de transformação de outros materiais ou na fabricação de matéria-prima. Devem ser separados e destinados à coleta seletiva. São exemplos as embalagens de plástico, o papelão, os potes de vidro, as garrafas PET, os jornais e as revistas usadas e os objetos de metal.
- (C) resíduos, principalmente sólidos, originários do processo de produção das indústrias. São exemplos os retalhos de tecido, as sobras e os retalhos de metal, as embalagens de matéria-prima, as sobras de vidro etc.
- (D) resíduos gerados pelo descarte de aparelhos elétricos e eletroeletrônicos que não funcionam mais ou que estão muito superados. São exemplos os rádios, os computadores, os televisores, os celulares, os fios, as baterias, os carregadores, entre outros.

RASCUNHO